



| | | | | | | | | | | |
|--|----|--|--|----|--|--|----|--|--|----|
| | | | | | | | | | | |
| | 1 | | | 2 | | | 3 | | | 4 |
| | | | | | | | | | | |
| | | | | | | | | | | |
| | 5 | | | 6 | | | 7 | | | 8 |
| | | | | | | | | | | |
| | | | | | | | | | | |
| | 9 | | | 10 | | | 11 | | | 12 |
| | | | | | | | | | | |
| | | | | | | | | | | |
| | 13 | | | 14 | | | 15 | | | 16 |
| | | | | | | | | | | |

Coloriez la grille ci-dessus, pour cela il faut trouver le lien entre le numéro dans la grille et la tuile. Le tableau ci-dessous, indique une question ou expression à calculer, la réponse permettra de trouver la tuile correspondante.


- 1 *Question non écrite*
- 2 *Question non écrite*
- 3 *Question non écrite*
- 4 *Question non écrite*
- 5 *Question non écrite*
- 6 *Question non écrite*
- 7 *Question non écrite*
- 8 *Question non écrite*
- 9 *Question non écrite*
- 10 *Question non écrite*
- 11 *Question non écrite*
- 12 *Question non écrite*
- 13 *Question non écrite*
- 14 *Question non écrite*
- 15 *Question non écrite*
- 16 *Question non écrite*




Réponse non écrite



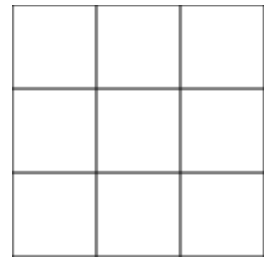
Réponse non écrite




Réponse non écrite




Réponse non écrite



Réponse non écrite




Réponse non écrite




Réponse non écrite



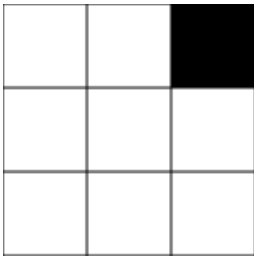
Réponse non écrite



Réponse non écrite




Réponse non écrite




Réponse non écrite




Réponse non écrite




Réponse non écrite



Réponse non écrite



Réponse non écrite



Réponse non écrite