


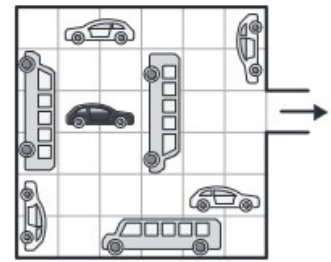
### Activité

 Durée : 2 mn

Dans le jeu représenté ci-contre, les véhicules peuvent seulement avancer ou reculer en ligne droite ; ils ne peuvent pas tourner.

Combien de véhicules doit-on déplacer avant que la voiture noire puisse avancer et sortir ?

- A) 2      B) 3      C) 4      D) 5      E) 6



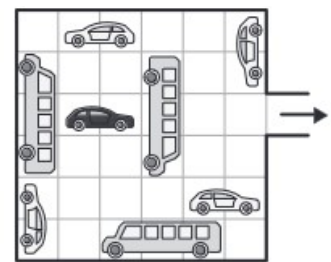
### Activité

 Durée : 2 mn

Dans le jeu représenté ci-contre, les véhicules peuvent seulement avancer ou reculer en ligne droite ; ils ne peuvent pas tourner.

Combien de véhicules doit-on déplacer avant que la voiture noire puisse avancer et sortir ?

- A) 2      B) 3      C) 4      D) 5      E) 6



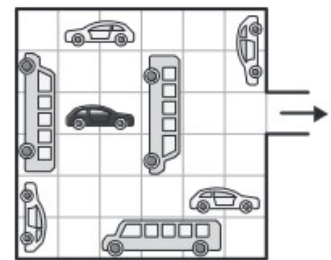
### Activité

 Durée : 2 mn

Dans le jeu représenté ci-contre, les véhicules peuvent seulement avancer ou reculer en ligne droite ; ils ne peuvent pas tourner.

Combien de véhicules doit-on déplacer avant que la voiture noire puisse avancer et sortir ?

- A) 2      B) 3      C) 4      D) 5      E) 6



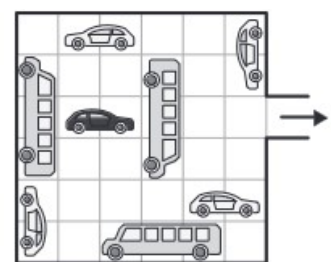
### Activité

 Durée : 2 mn

Dans le jeu représenté ci-contre, les véhicules peuvent seulement avancer ou reculer en ligne droite ; ils ne peuvent pas tourner.

Combien de véhicules doit-on déplacer avant que la voiture noire puisse avancer et sortir ?

- A) 2      B) 3      C) 4      D) 5      E) 6



### Habillage Pro-masculin

Présentation : Je vous propose une petite expérience. Voici une activité, il a été scientifiquement prouvé que les garçons réussissaient.

En aparté : « C'est vrai que pour les cerveaux des filles, cette vision dans l'espace, ce n'est pas facile »

### Habillage Pro-féminin

Présentation : Je vous propose une petite expérience. Voici une activité, il a été scientifiquement prouvé que les filles réussissaient.

En aparté : « C'est vrai que les cerveaux des garçons peuvent être gênés par la représentation non réaliste des voitures.»